

Desafios matemáticos

Prefeitura de Santo André – PSA

Departamento de Educação Infantil e Fundamental – DEIF



Neste momento de crise (COVID 19) em que precisamos ficar em casa e nos proteger, uma das melhores maneiras de nos fortalecermos em nosso convívio com a família, em especial com as crianças, é por meio de momentos lúdicos, mas também educativos que lhes proporcionem o contato com a leitura para a descoberta ou aprofundamento de novos conhecimentos.

Para auxiliar estamos disponibilizando alguns **desafios matemáticos** para você testar seus conhecimentos, exercitar sua atenção e desenvolver seu raciocínio lógico-matemático. Você encontrará as respostas ao final, mas lembre-se: **É preciso ter calma e pensar em todas as possibilidades antes de olhar a resposta. Só assim você realmente irá desenvolver suas habilidades de raciocínio.** Ah, depois de desvendá-los, compartilhe com sua família e amigas/os, poderá ser muito divertido!

ESPERAMOS QUE TODAS/TODOS POSSAM SE DIVERTIR E APRENDER!

VAMOS NESSA?



1

MARIA ESTÁ OLHANDO PELA JANELA.
O QUE ELA VÊ À DIREITA DA ESTRADA?



- A) UM BARCO E UMA CASA
- B) UM CACHORRO E UMA CASA
- C) UMA ÁRVORE E UM GUARDA-SOL
- D) UM SURFISTA E UM BARCO



2

EXISTE UMA ÚNICA DIFERENÇA ENTRE ESSAS DUAS IMAGENS. QUAL É?

IMAGEM 1




IMAGEM 2



3










QUAL É O SÍMBOLO QUE ESTÁ ENTRE



E



?

A)



B)



C)



D)



QUAL VEÍCULO ESTÁ MAIS PERTO DO MENINO QUE ESTÁ PASSEANDO COM O CACHORRO NA CALÇADA?



A)



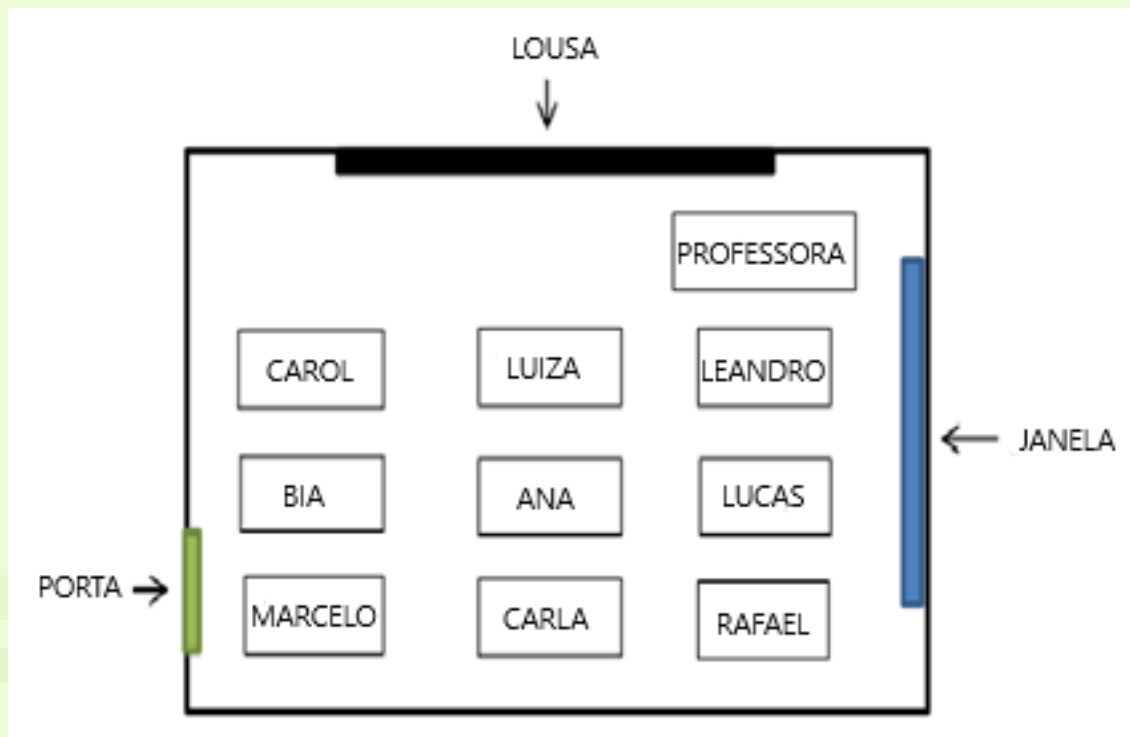
B)



C)



MARCELO FEZ A SEGUINTE PLANTA DA SUA SALA DE AULA:



DAS CRIANÇAS QUE SENTAM PERTO DA JANELA, A QUE ESTÁ MAIS LONGE DA PROFESSORA É:

- A) CAROL B) LEANDRO C) RAFAEL D) MARCELO



RESPOSTAS



1

LETRA B) UM CACHORRO E UMA CASA



RESPOSTA: FALTA UMA ARGOLA NA IMAGEM 2



IMAGEM 1



IMAGEM 2



3

LETRA C)



LETRA C)



5

LETRA C) RAFAEL

